

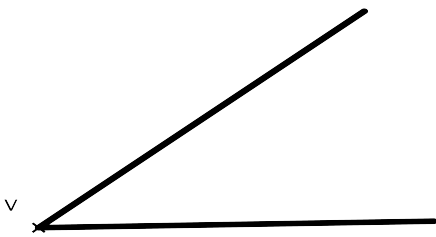
Nombre: _____



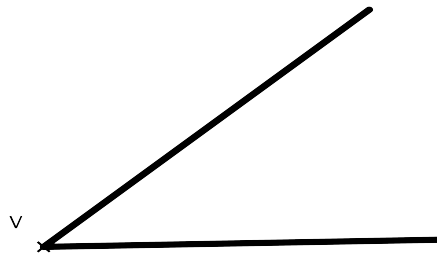
Trazar la mediatriz del segmento AB.




Dividir el segmento AB en 4 partes iguales.



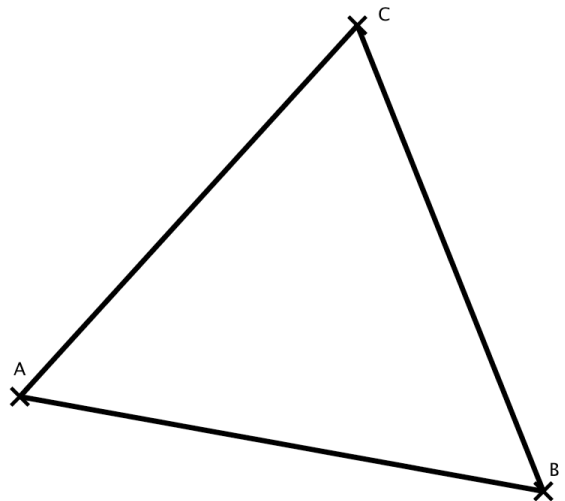
Dibujar la bisectriz del ángulo V.



Dividir el ángulo V en 4 partes iguales.



Trazar una circunferencia que pase por A, B y C.



Dibujar la circunferencia inscrita al triángulo.